

# 社 会

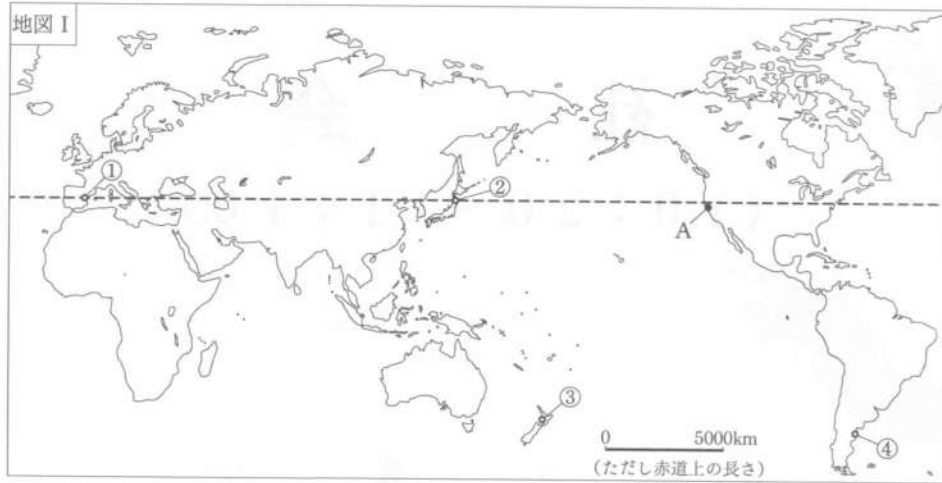
(10:20～11:10)

## 注 意

- 1 検査開始のチャイムが鳴るまで開いてはいけません。
- 2 問題用紙の1ページから14ページに、問題が**1**から**4**まであります。  
これとは別に解答用紙が1枚あります。
- 3 問題用紙と解答用紙に受検番号を書きなさい。
- 4 答えはすべて解答用紙に記入しなさい。

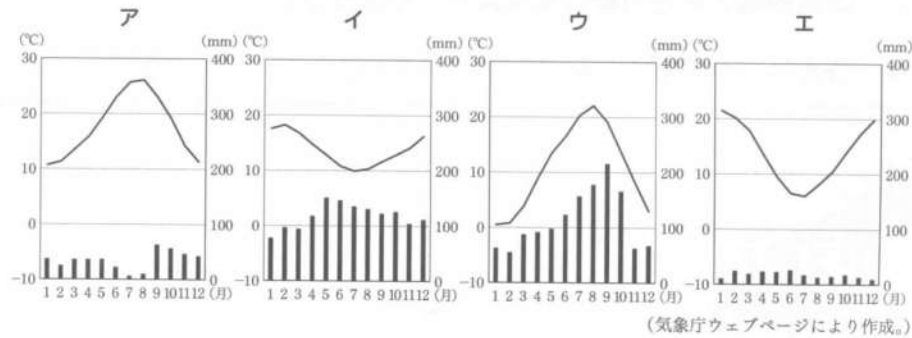
1 あとの1～3に答えなさい。

1 次の地図Ⅰを見て、下の(1)～(3)に答えなさい。



(1) 地図Ⅰ中のAに位置し、先端技術産業の研究拠点となっている大学や、ICT関連企業が集まっている地域を何といいますか。その名称を書きなさい。

(2) 次のア～エは、地図Ⅰ中の①～④の都市のいずれかの雨温図を示しています。ア～エの中で、③の都市の雨温図に当たるものはどれですか。その記号を書きなさい。



(3) 地図Ⅰ中の破線(-----)は、次のア～エの山脈や河川を通る北緯40度の緯線を示しています。本初子午線からこの緯線上を東回りに進んだとき、ア～エの中で、2番目に通るものはどれですか。その記号を書きなさい。

ア アパラチア山脈    イ 北上川    ウ 黄河    エ ロッキー山脈

2 次の表Ⅰは、仙台駅からX～Zの駅までの自動車または鉄道による所要時間を示しています。表Ⅰ中のX～Zには、下の地図Ⅱ中の秋田駅、盛岡駅、気仙沼駅のいずれかが当てはまります。あとのア～カの中で、表Ⅰ中のX～Zに当てはまる駅の組み合わせとして最も適切なものはどれですか。その記号を書きなさい。

表Ⅰ 仙台駅からの所要時間

(分)

駅	X	Y	Z
自動車(高速道路の利用を含む)	143	145	197
鉄道(新幹線の利用を含む)	129	39	139

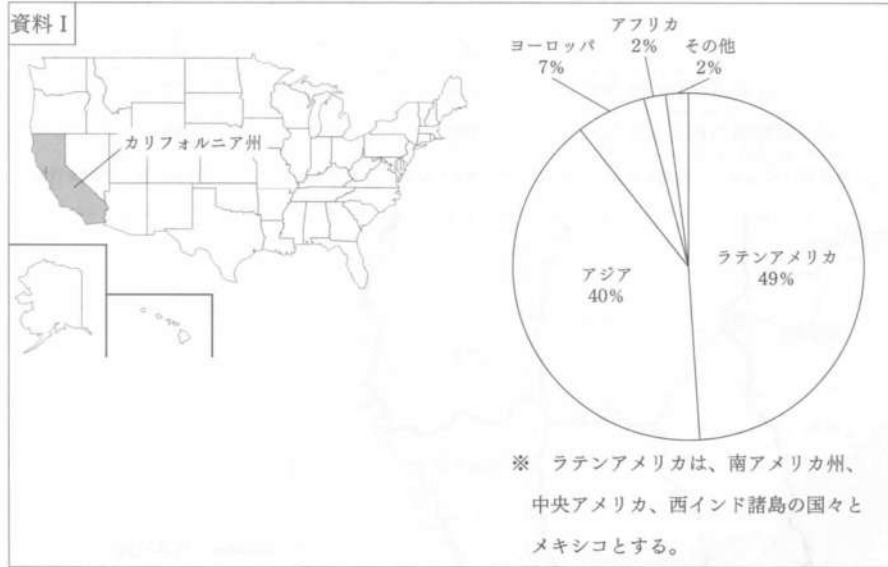
※ 出発日は全て同一に設定しており、所要時間の最も短い経路を選択している。鉄道は乗り換え時間を含む。



(地理院地図Vectorにより作成。)

	X	Y	Z
ア	秋田駅	盛岡駅	気仙沼駅
イ	秋田駅	気仙沼駅	盛岡駅
ウ	盛岡駅	秋田駅	気仙沼駅
エ	盛岡駅	気仙沼駅	秋田駅
オ	気仙沼駅	秋田駅	盛岡駅
カ	気仙沼駅	盛岡駅	秋田駅

3 次の資料Iは、カリフォルニア州の位置及びその州の2023年における、アメリカ合衆国以外で生まれた人々の出身地域別人口割合を示しています。下の文章は、カリフォルニア州で家庭において話される言語とその背景について述べたものです。資料Iを基に、文章中の  ・  に当てはまる適切な語をそれぞれ書きなさい。また、文章中の  には、どのような内容が当てはまりますか。簡潔に書きなさい。



(U.S. Censusにより作成。)

カリフォルニア州は、家庭において英語以外の言語を話す人々の割合が、アメリカ合衆国の全ての州の中で最も高い。カリフォルニア州で家庭において英語以外の言語を話す人々のうち、最も多くの人々が話す言語は、  語である。これは、  と呼ばれる人々が、主に  しているためと考えられる。

2 次の略年表は、日本と外国との関わりに関することがらについてまとめたものです。あとの1～6に答えなさい。なお、略年表中のあといは、それぞれ  $\longleftrightarrow$  の示す期間を表したものです。

世紀	日本と外国との関わりに関することがら
7	聖徳太子が小野妹子らを隋へ派遣した。 あ $\updownarrow$
9	A 菅原道真が遣唐使の派遣停止を訴えた。
13	B 元が二度にわたり日本へ襲来した。
16	C 豊臣秀吉が宣教師の国外追放を命じた。
18	ロシア使節のラクスマンが根室に来航した。 い $\updownarrow$
19	岩倉使節団が欧米諸国を訪問した。

1 次のア～エの中で、略年表中あ～いの期間の政治の仕組みについて述べた文として最も適切なものはどれですか。その記号を書きなさい。

- ア 国ごとに守護が、荘園や公領ごとに地頭が置かれた。
- イ 国には国司が派遣され、郡には郡司が置かれた。
- ウ 中央から府知事・県令が派遣され、統治にあたった。
- エ 幕府と藩が各地の土地と民衆を支配した。

2 Aの頃、唐風の文化を基礎にしなが、日本の風土や生活に合った文化が発達しました。この文化を何といいますか。その名称を書きなさい。

3 次の資料Ⅰは、Bのことがらののち、ある御家人によって書かれた領地の相続に関する文書の一部をまとめたものです。また、下の文章は、この文書が書かれた背景について述べたものです。文章中の  ・  には、どのような内容が当てはまりますか。資料Ⅰを基に、それぞれ簡潔に書きなさい。ただし、 は、「領地」の語を用いて、書きなさい。

資料Ⅰ

私が先祖から受け継いできた領地を、嫡子（家の跡継ぎとなる子）に譲る。今までのように、嫡子以外の子にも、領地の一部を譲るべきだが、嫡子以外の子に譲ると、幕府に緊急事態があったときに対応できないため、嫡子一人に譲ることとする。

この文書が書かれた頃の社会では、鎌倉幕府から支配を認められた領地を  する慣習があった。これが数世代にわたり繰り返されてきたことで、御家人たちの  ために、新たな戦いが発生しても、軍役や経済的負担を負うことができず、奉公の義務も果たせない状況が生じていた。この状況から脱却するため、資料Ⅰのように相続方法が変更されたと考えられる。

4 次の資料Ⅱは、Cの頃に発令された刀狩令の一部と、その目的と影響について述べたものです。下のA～Eの中で、資料Ⅱ中の  ・  にそれぞれ当てはまる語の組み合わせとして最も適切なものはどれですか。その記号を書きなさい。

資料Ⅱ

〔刀狩令の一部〕

一 諸国の  が、刀やわきざし、弓、槍、鉄砲、そのほかの武器などを持つことは固く禁止する。

〔目的と影響〕

- ・  などの武力による抵抗を防ぐことを目的とした。
- ・ 身分に対応した職業で生活するという近世社会の仕組みを整えることにつながった。

- ア  武士    イ  武士    ウ  百姓    エ  百姓  
 米騒動     一揆     米騒動     一揆

5 次の資料Ⅲは、略年表中の期間に含まれる1840年から1857年の間に、オランダが幕府に提出した海外情報である別段風説書の一部を示したものです。また、下の文は、幕府が海外情報を求めて別段風説書を提出させた理由について述べたものです。あとのA～Eの中で、資料Ⅲ中の  に当てはまる語と、文中の  に当てはまる内容の組み合わせとして最も適切なものはどれですか。その記号を書きなさい。

資料Ⅲ

舟山は貿易にとって最も重要な場所だった。南京条約において、香港の代わりに、この港の所有権を規定しておかなかったことは、 にとって嘆きの種であった。

(別段風説書により作成。)


幕府が別段風説書を提出させたのは、この頃、 状況があり、詳しい海外情報をつかんでおく必要性を感じていたためである。

- ア  イギリス  
 アヘン戦争が起こり、大きな衝撃が広がっていた
- イ  イギリス  
 三国干渉により、ロシアへの対抗心が高まっていた
- ウ  オーストリア  
 アヘン戦争が起こり、大きな衝撃が広がっていた
- エ  オーストリア  
 三国干渉により、ロシアへの対抗心が高まっていた

6 日本と外国との関わりの様子を今に伝えるものとして、「万国津梁の鐘」があり、次の資料IVは、この鐘とその銘文の一部を示しています。この鐘は1458年につくられ、資料IV中のX国にかけられていたもので、その銘文には、X国と近隣の国々による盛んな交易の様子が表れています。下の地図I中のア～エの中で、X国の貿易港の場所として適切なものはどれですか。その記号を書きなさい。

資料IV

万国津梁の鐘



〔銘文の一部〕

X国は美しい地にあり、朝鮮の優れた文化を集め、中国や日本と密接な関係にある。

X国は船を操って世界の架け橋となり、異国の産物や宝物が国内に満ちている。



③ あとの1～6に答えなさい。

1 次の資料Iは、日本国憲法第25条の一部を示したものです。この条文によって保障されている基本的人権を何とといいますか。下のア～エの中から、最も適切なものを選び、その記号を書きなさい。

資料I

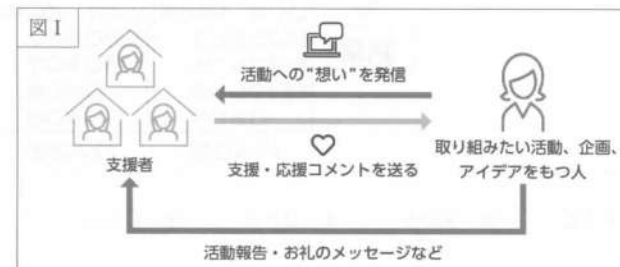
すべて国民は、健康で文化的な最低限度の生活を営む権利を有する。

ア 経済活動の自由    イ 生存権    ウ 法の下での平等    エ 請願権

2 次のア～エは、日本の社会保障制度のうち、社会保険または公衆衛生の事例です。ア～エの中で、公衆衛生の事例として適切なものを全て選び、その記号を書きなさい。

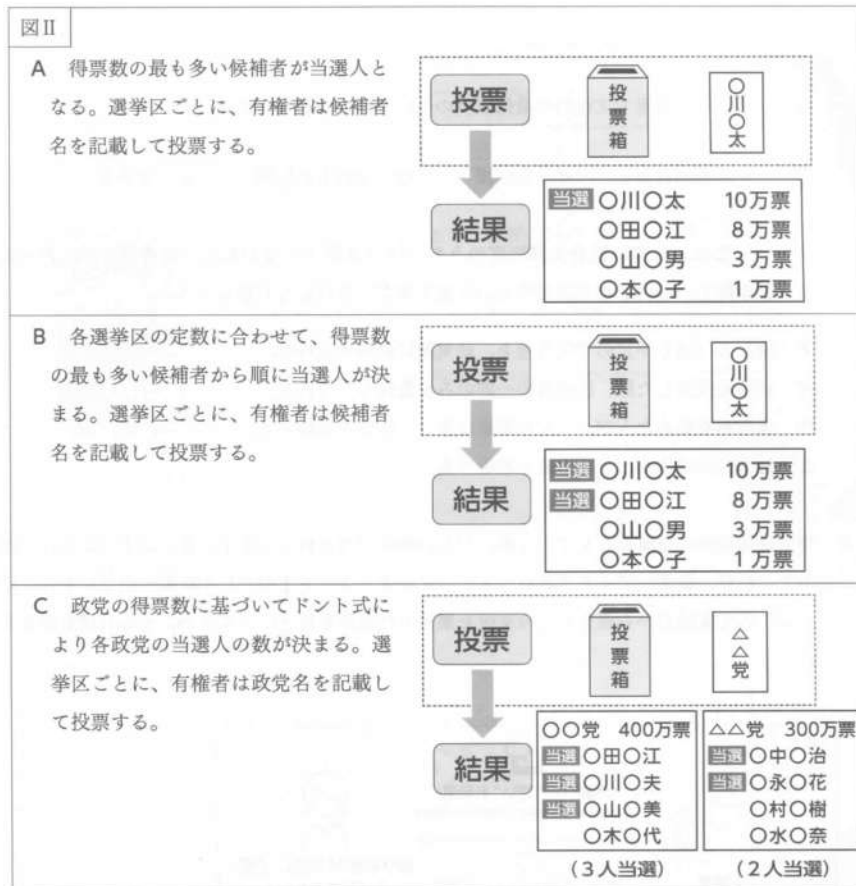
ア 麻しん（はしか）の予防接種を、幼児期に無料で受ける。  
 イ 病院を受診した際、医療費の一部のみを負担し、支払う。  
 ウ 保険料を納めた人が、一定の年齢に達し、年金を受給する。  
 エ 地方公共団体が、上下水道を整備する。

3 情報通信技術の発展とともに、金融の新しい動きが生まれています。次の図Iのように、取り組みたい活動、企画、アイデアをもつ人が、インターネットを利用して活動への想いを社会に呼びかけ、広く支援者から資金などの支援を集める仕組みを何とといいますか。その名称を書きなさい。



(消費者庁資料により作成。)

4 次の図Ⅱ中のA～Cは、それぞれ異なる選挙制度とその投票方法を示しています。下のア～オの中で、令和6年10月に実施された第50回衆議院議員総選挙における選挙制度とその投票方法として適切なものを選び、その記号を書きなさい。



ア AとC    イ BとC    ウ Aのみ    エ Bのみ    オ Cのみ

5 近年、国または地方公共団体による規制緩和が進められています。次のア～エの中で、日本における規制緩和の事例として最も適切なものを選び、その記号を書きなさい。


- ア 年末年始に、旅館が宿泊料金を通常よりも値上げする。
- イ 少数の企業が相談して、製品の生産量や価格を決定する。
- ウ コンビニエンスストアなどで、一部の医薬品を販売する。
- エ バス運転手の1日に取るべき休息期間を延長する。

6 次の資料Ⅱは、D市における道路建設についての経緯を示しています。資料Ⅱの事例についてまとめた下の文章中の a ・ b には、どのような内容が当てはまりますか。それぞれ簡潔に書きなさい。

資料Ⅱ

D市では、市の中心部にあるD駅周辺の交通渋滞を減らすため、D駅周辺に、都市高速道路の出口を設置する都市計画を策定した。都市計画に基づき、都市高速道路を運営するX社が新たに設置する出口付近の土地を買収しようとしたが、そこでは民間企業のY社が長年、事業を営んでいた。X社は土地所有者のY社に買収に対して理解を求めたが、その土地は非常に利便性の高い場所であったため適当な代替地がなく、移転するとY社の事業に大きな支障があり、交渉は難航した。

ちょうどその頃、道路に関する法律が改正され、道路の上空に建物を建設することを可能とする制度がつけられた。X社はこの制度を利用し、Y社と合意に至ることができた。Y社は他の土地に移転することなく、右の図のような都市高速道路が貫通したビルを新たに建設し、事業を続けることができた。



「効率」が「より少ない資源を使って社会全体でより大きな成果を得る」という考え方であるとするとき、資料Ⅱの事例では、 a ことが「効率」に当たる。また、「公正」が「不当に不利益を被っている人をなくす」という考え方であるとするとき、資料Ⅱの事例では、合意の内容を踏まえると、 b のないようにすることが「公正」に当たる。

4 ある学級の社会科の授業で、「私たちの生活と国際社会の諸課題」というテーマで、班ごとに分かれて学習をしました。次の会話は、田中さんの班が話し合ったときのものです。あとの1～4に答えなさい。

田中：最近、様々な食品の値上げのニュースを見聞きするね。昨日、スーパーマーケットに行ったら、私の大好きなチョコレートも値上がりしていて、驚いたよ。

野村：このニュース記事を見て。この製菓会社は、チョコレート商品の価格を2024年11月以降の出荷分から、最大約38%値上げしたんだって。カカオやチョコレートの価格が上がっている現象を「カカオショック」と呼ぶらしいよ。

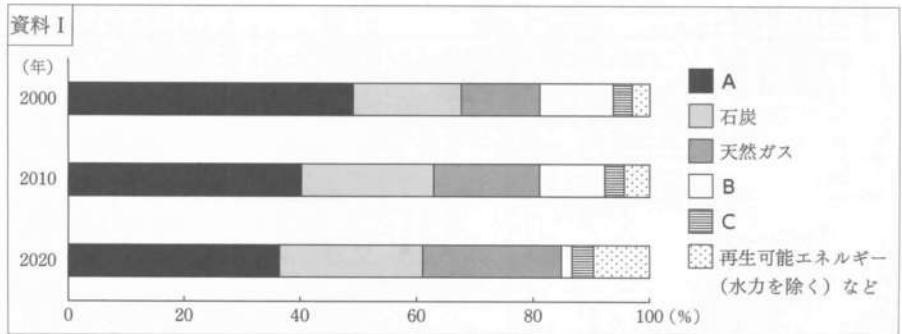
山下：この現象は、世界全体で起きているみたい。私たちの班は、「なぜ、チョコレートの価格は上がっているのか？」を切り口に、国際社会の諸課題について考えてみようよ。

田中：価格上昇の背景には、発電や輸送で使われる原油や天然ガスなどのエネルギー資源の価格変動があるとよく聞くけど、①日本のエネルギー利用の特徴と関係があるのかな。

野村：他の要因もありそうだね。チョコレートは②いつどこで作られ始めたかという歴史的な側面や、カカオが③主にどこで栽培されているかという地理的な側面からも探ってみようよ。

山下：まとめの授業では、④調べたことから見えてくる国際社会の諸課題について、その解決に向けた取り組みを発表してみようよ。

1 下線部①に関して、田中さんは、日本の2000年、2010年、2020年におけるエネルギー供給の割合を示す次の資料Iを見付けました。下のア～カの中で、資料I中のA～Cに当てはまる語の組み合わせとして最も適切なものはどれですか。その記号を書きなさい。



(総合エネルギー統計により作成。)

	ア	イ	ウ	エ	オ	カ
A	原子力	原子力	水力	水力	石油	石油
B	水力	石油	原子力	石油	原子力	水力
C	石油	水力	石油	原子力	水力	原子力

2 下線部②に関して、野村さんは、歴史的な側面に着目し、調べて考えたことを次のようにまとめました。下のア～工の中で、まとめの中の a・b にそれぞれ当てはまる語の組み合わせとして最も適切なものはどれですか。その記号を書きなさい。なお、まとめの中の2か所の a・b にはそれぞれ同じ語が入ります。

野村さんのまとめ

図Iは、17世紀頃の大西洋三角貿易を模式的に示しています。生産されたカカオは、アメリカ大陸から輸出された銀や a とともにヨーロッパへ渡り、その後、固形チョコレートが作られ始めました。

現在、日本もカカオの大半を輸入に頼っていて、為替相場の推移を示す資料IIを見ると、矢印(←→)の期間は、それ以前より b の状態が続いています。つまり、「貿易」の観点から考えると、b の状態が続いていることがチョコレートの価格上昇の原因だと考えます。

(日本銀行ウェブサイトにより作成。)

- ア [ a 茶 / b 円高 ]    イ [ a 茶 / b 円安 ]    ウ [ a 砂糖 / b 円高 ]    工 [ a 砂糖 / b 円安 ]

3 下線部③に関して、山下さんは、地理的な側面に着目し、調べて考えたことを次のようにまとめました。あとの(1)・(2)に答えなさい。

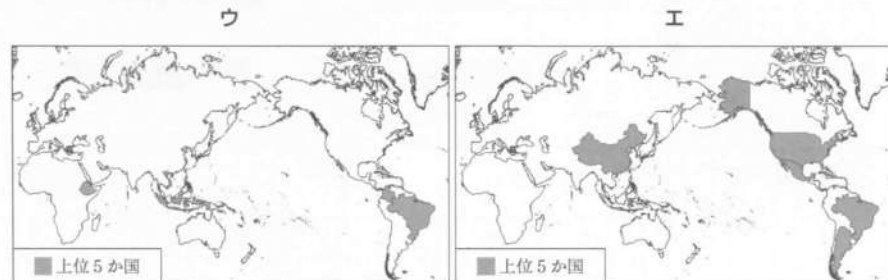
山下さんのまとめ

カカオ豆の生産量上位5か国を右の地図Xに示しました。5か国の位置に着目すると、高温多湿な気候であることが共通点であり、これが、カカオの栽培に必要な条件であると分かります。

地図X

2023年以降、生産量の上位国で豪雨や干ばつが起り、それに伴う病害が原因でカカオは不作となりました。この豪雨や干ばつは、地球温暖化による異常気象が影響していると考えられています。つまり、「自然環境」の観点から考えると、異常気象によるカカオの不作が、チョコレートの価格上昇の原因だと考えます。地球温暖化により、2050年までにYカカオの栽培に適した地域が大幅に縮小することが予測されているそうです。

(1) 次のア～エは、カカオ豆、牛肉、コーヒー豆、ブドウそれぞれについての生産量上位5か国(2022年)を示した地図のいずれかに当たります。ア～エの中で、山下さんのまとめの中の地図Xに当てはまる、カカオ豆の生産量上位5か国を示した地図はどれですか。その記号を書きなさい。



(データブック オブ・ザ・ワールド 2025年版により作成。)

(2) 下線部Yに関して、次の資料Ⅲは、地球温暖化によってウンシュウミカンの栽培に適した地域が変化する予測を示したものです。また、下の文は、資料Ⅲから考察した内容について述べたものです。文中の [ ] に当てはまる内容を、どのような人々にとって問題が生じるかに触れて、簡潔に書きなさい。



(農研機構(2025)「ウンシュウミカン・アボカド適地移動予測マップ」により作成。)

地球温暖化によって、ウンシュウミカンの栽培に適した地域が変化し、将来は新たな地域が栽培可能になる一方、 [ ] という問題が生じると考えられる。

4 下線部④に関して、田中さんたちは、カカオ農家の置かれている状況に着目し、調べて考えたことを次のようにまとめました。まとめの中の c に当てはまる適切な語を書きなさい。また、 d に当てはまる内容を簡潔に書きなさい。

田中さんたちのまとめ

カカオを生産している国では、近年のカカオの不作によって、貧困がより深刻になっている地域があります。そもそも貧困の一因には、人々の識字率(15歳以上の人口のうち、日常生活の簡単な内容についての読み書きができる人の割合)の低さがあります。読み書きができないと、仕事に限られたり、貧困を抜け出すための様々な情報にアクセスできなかったりするからです。

こうした状況を改善する支援の一つとして、日本は国際貢献として技術協力や資金提供をする c を通じて、学校を建設したり井戸を整備したりする取り組みを行っています。井戸の整備を進めるのは、資料Ⅳの事例のように、井戸がない地域では子供たちが d ことが、識字率が向上しない一因となるからです。

カカオ生産に関わる諸課題の解決は簡単ではないですが、カカオ農家の生活環境の改善が、貧困からの脱却と持続的なカカオ生産にとって重要だと考えます。

資料Ⅳ



自宅から離れた水場から水をくみ、運んで帰る子供。毎日、料理や食器洗いのために、水をくんで親の手伝いをしている。

(ユニセフウェブページにより作成。)